

平成27年度

入学試験問題

(40分)

社 会

(アカデミーコース)

学校法人 成美学園

福知山成美高等学校

受験上の注意

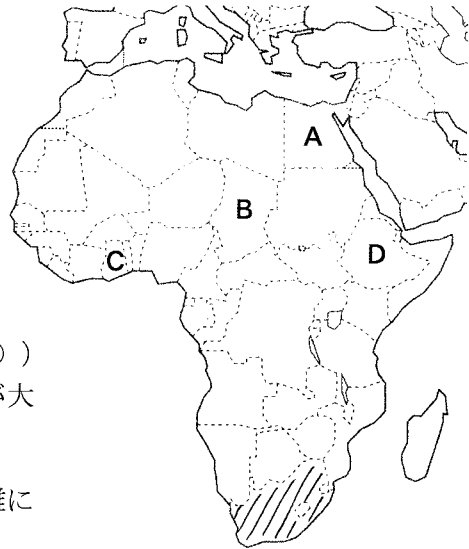
- 試験開始の合図があるまで、この問題冊子の中を見てはいけません。
- 解答はすべて解答用紙に記入しなさい。
- 試験中に問題冊子および解答用紙の汚れなどに気付いた場合は、手を上げて監督者に知らせなさい。
- 問題の答えは、ていねいな字で、書きなさい。

【1】下の図を見て、次の各問いに答えなさい。

(1) 次の文はアフリカについて述べたものである。(①)・(②)にあてはまる語をそれぞれ答えなさい。

〈位置〉東西は、ほぼ東経50度～西経20度の範囲に、南北は、北緯35度～南緯35度の範囲に位置する。北は地中海、東は(①)、西は大西洋に囲まれた大陸である。

〈地域区分〉世界最大の砂漠である(②)砂漠を境として、南北で人種や文化が大きく異なる。



(2) 次のア～エのうち、アフリカ南北の距離に最も近いものを選び、記号で答えなさい。

ただし、地球の経線の全周は約40,000kmとする。

ア. 約5,000km イ. 約8,000km ウ. 約10,000km エ. 約12,000km

(3) 下の表は大陸別の高度別面積の割合を示したものである。アフリカ大陸のものはどれか、表中のア～ウから1つを選び、記号で答えなさい。

高度(m) \ 大陸	(ア)	ヨーロッパ	(イ)	北アメリカ	南アメリカ	(ウ)	南極	全大陸
200m未満	24.6%	52.7%	9.7%	29.9%	38.2%	39.3%	6.4%	25.3%
200-500	20.2%	21.2%	38.9%	30.7%	29.8%	41.6%	2.8%	26.8%
500-1000	25.9%	15.2%	28.2%	12.0%	19.2%	16.9%	5.0%	19.4%
1000-2000	18.0%	5.0%	19.5%	16.6%	5.6%	2.2%	22.0%	15.2%
2000-3000	5.2%	2.0%	2.7%	9.1%	2.2%	0.0%	37.6%	7.5%
3000-4000	2.0%	0.0%	1.0%	1.7%	2.8%	—	26.2%	3.9%
4000-5000	4.1%	0.0%	0.0%	0.0%	2.2%	—	0.0%	1.5%
5000以上	1.1%	—	0.0%	0.0%	0.0%	—	0.0%	0.4%
平均高度	960m	340m	750m	720m	590m	340m	2200m	875m

(4) 次のア～エの各文は、地図上のA～Dのいずれかの地域について述べたものである。Cの地域について述べたものはどれか。ア～エから1つを選び、記号で答えなさい。

ア. ナイル川の河口部分にあたり、綿花や小麦が栽培されている。

イ. 年による雨量の変動が大きく、サヘルでは砂漠化が進んでいる。

ウ. 年中気温が高く多雨で、カカオの栽培が盛んである。エボラ出血熱が流行し、感染が広がり、今後のWHOの取り組みが重要視されている。

エ. 高原が占める内陸国で温暖であり、夏に雨が多い。コーヒーの原産国である。

(5) 地図上の斜線部の国では、1991年まで、人口の約85%を占める先住民などの非白人を、生活のすべてにわたって差別する政策が行われていた。この政策を何というか答えなさい。

【2】2014サッカーワールドカップブラジル大会でベスト4に進出したブラジル・ドイツ・オランダ・アルゼンチンの4国について、次の各問いに答えなさい。

国土の面積は南アメリカ大陸全体の半分近くを占め、流域面積・長さ共に世界最大級の(①)川が東西に流れている。面積は約850万km²、人口は南アメリカ最大で約2億人である。その過半数はヨーロッパ系だがメスチソなどの混血や、黒人・日系人も多い。公用語は(②)語、宗教はaカトリックが大半である。かつてはbコーヒーのモノカルチャー経済であったが、現在は大豆・トウモロコシなどの農業の多角化が進み、また、鉱工業においても鉄鉱石などの鉱産資源に恵まれ、鉄鋼・自動車など工業製品の輸出も多い。

面積は約35万km²、人口はヨーロッパ最大で約8200万人である。1919年のcパリ講和会議には第1次世界大戦の敗戦国として参加した。1933年にナチスが政権を掌握、第2次世界大戦でも敗戦国となり、戦後の冷戦期に国土は東西に分断された。1961年にはベルリンの壁が構築されたが1989年に民衆によって破壊され、再び統一国家を実現した。dEU最大の工業国で、機械類をはじめとするあらゆる工業が発達する。

北海に面する立憲君主国である。人口は約1600万人で面積は3.7万km²である。海運国として発達し、鎖国体制中の日本とは長崎の出島で交易していた。国土の4分の1は海面下にあり、干拓事業によりポルダーが造成された。eライン川の河口付近のロッテルダムにはEUの玄関口として栄えた港湾があり、石油化学工業や中継貿易で発達した。農業ではf園芸農業や酪農が盛んである。

南アメリカ大陸南東部に位置し、南部のフエゴ島との間には初めて一行が世界周航に成功した(③)の通過した海峡がある。人口は約4000万人で面積は約280万km²である。民族は(④)系を中心に白人が90%を占める。公用語は(④)語で宗教はカトリックが大多数である。首都ブエノスアイレスを中心としたパンパや南部の寒冷少雨の台地であるパタゴニアでは畜産業が盛んである。

(1) 文中の空欄(①)～(④)にあてはまる語句の組み合わせとして最も適当なものを、次のア～エから1つ選び、記号で答えなさい。

	①	②	③	④
ア	ミシシッピ	ポルトガル	バスコ＝ダ＝ガマ	スペイン
イ	アマゾン	スペイン	マゼラン	ポルトガル
ウ	ミシシッピ	スペイン	バスコ＝ダ＝ガマ	ポルトガル
エ	アマゾン	ポルトガル	マゼラン	スペイン

- (2) 4国の中で最も人口密度が高いのはどこの国か答えなさい。
- (3) 下線部 **a** の信者が多い地域について最も適当なものを、次の**ア～エ**から1つ選び、記号で答えなさい。
ア. サウジアラビア・イラク・エジプトなど、おもに西アジア・北アフリカに信者が多い。
イ. インド・フィジー・マレーシアなど、旧イギリス植民地に信者が多い。
ウ. ドイツ・イギリス・デンマークなど、おもにヨーロッパ中北部に信者が多い。
エ. イタリア・フランス・スペインなど、おもにヨーロッパ南部に信者が多い。
- (4) 下線部 **b** のように、熱帯地域において、かつて欧米が資本技術を提供し、現地人や移民の安価で豊富な労働力を用い、商品作物を大量に単一栽培する農業を何というか答えなさい。
- (5) 下線部 **c** で締結された条約名を何というか答えなさい。また、この条約やこの時期の国際動向について最も適当なものを、次の**ア～エ**から1つ選び、記号で答えなさい。
ア. 敗戦国であるドイツへの賠償金賦課、軍備制限、植民地の委任統治領移行などが決定した。
イ. 日本は戦勝国として参加し、中国の遼東半島の旧ロシア権益の継承権などが認められた。
ウ. アメリカ大統領ルーズベルトの提唱により、国際平和の確保を目的に国際連盟が発足した。
エ. 韓国では二十一か条要求の解消が拒否されたことで、反帝国主義の運動が起こった。
- (6) 下線部 **d** に関して、ライン川流域にあるヨーロッパ最大級の工業地帯の名称を答えなさい。
- (7) 下線部 **e** のことを何というか答えなさい。
- (8) 下線部 **f** の説明として、最も適当なものを、次の**ア～エ**から1つ選び、記号で答えなさい。
ア. 飼料作物を栽培し、牛・豚などの肉用家畜の飼育・販売を目的とする農業。
イ. 都市への出荷を目的に野菜・花などを集約的に栽培する農業。
ウ. 飼料作物を栽培して乳牛を飼育し、酪製品の販売を目的とする農業。
エ. 夏の高温乾燥を利用してオリーブ・ブドウ・かんきつ類などを栽培する農業。
- (9) ワールドカップ決勝戦は現地時間の7月13日午後4時に開始された。その時、日本では7月14日午前4時であった。現地の標準時線を東経・西経を明らかにして答えなさい。

【3】 下の図を見て、次の各問いに答えなさい。

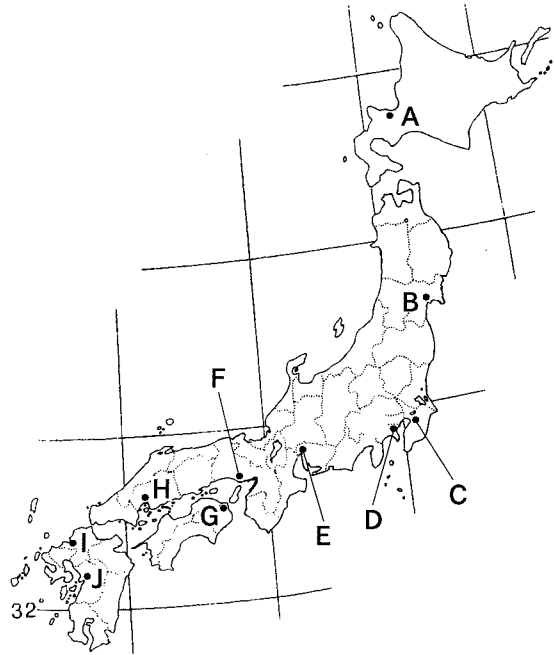
(1) 次の 1 ～ 4 はプロ野球球団の本拠地の説明である。その都市名を答え、位置を **A～J** から1つ選び、記号で答えなさい。

1. ・人口約107万人の政令指定都市。
 ・市章は伊達家家紋をもとにデザイン。
 ・北上川の河口に位置し、杜^{もり}の都と呼ばれた。

2. ・人口約370万人の政令指定都市。
 ・日本有数の貿易港を持つ国際的な港湾工業都市。
 ・みなとみらい21などのウォーターフロント開発が進められている。

3. ・人口約193万人の政令指定都市。
 ・明治時代に開拓使が置かれた。
 ・酪製品やビールなどの食品工業がさかんである。
 ・平成16年に初めて本拠地になった。

4. ・人口約118万人の政令指定都市。
 ・2014年8月20日未明には、市北部が集中豪雨で甚大な被害をうけた。
 ・国際平和文化都市として、大きな影響力を持つ都市である。



(2) 地図上の **A～J** の都市を人口の多い順に並べた。正しい組み合わせを次の **ア～エ** から1つ選び、記号で答えなさい。

ア. C→H→I

イ. D→E→I

ウ. A→B→H

エ. D→J→C

【4】 下の文章を読み、次の各問いに答えなさい。

① 私は、貴族であり歌人としても活躍した。後醍醐天皇の命により仲間の歌人らとともに、約1100首を収めた『古今和歌集』の編纂にたずさわった。また、四国土佐の国司の任期を終え、京都に帰るまでの55日間のことを、当時、女性の文字とされた「かな」を使用して書いた旅日記も多くの人に知られている。

② 私は、頼朝の妻であり、頼家や実朝の母でもある。夫の死後、出家し尼となって父や弟と幕府の政治を掌握したことから、周囲は私のことを「尼將軍」とよんだ。後鳥羽上皇が幕府打倒のために起こした乱のときには、私は、必死に御家人たちの動揺を抑えて幕府の危機を救うことに全力を注ぎ、勝利に導いた。

③ 私は、大阪府に生まれた。12歳頃より家業を手伝いながら古典を学んだ。女学校を卒業した後は、多くの短歌を発表したり、歌集『みだれ髪』を発刊し、愛について自由にうたいあげた作品で注目を集めた。また、日露戦争期においては、女性文学の立場から反戦詩を発表した。

④ 私の父は稲目である。昨年7月、ピラミッド型の都塚古墳が発見され、父の墳墓ではないかと注目を集めた。付近には石舞台古墳がある。仏教を取り入れようとした私は、反対する物部氏を滅ぼし大きな権力をふるった。その後、推古天皇をたて彼女の甥を摂政につけ共同政治を行い、国家のしくみを整えた。

(1) ①～④の「私」とは誰か、人物名をそれぞれ答えなさい。

(2) ①～④の人物と関係のない資料を、次のア～エから1つ選び、記号で答えなさい。

ア. 「ああ 弟よ 君を泣く 君死にたまふことなかれ」

イ. 「さあ、侍ども、たしかに聞け。日本国の侍は、昔は3年のあいだ京都の守りにつくことを一生のだいじと思い、(略)それを頼朝殿はあわれに思われて、3年を半年に縮めて下さったので、みんな喜んだものだ。」

ウ. 「男もすなる日記というものを、女もしてみむとして、するなり。」

エ. 「元始、女性は実に太陽であった真正の人であった。今、女性は月である」

(3) 下線部の乱は何か、漢字で答えなさい。

(4) ③の人物が、直面した戦争について最も関係のあるものを、次のア～エから1つ選び、記号で答えなさい。

ア. 異国船打払令

イ. 日米和親条約

ウ. ポーツマス条約

エ. サンフランシスコ平和条約

(5) ④の人物の時代と同じ頃の出来事を、次のア～エから1つ選び、記号で答えなさい。

- ア. 秦の始皇帝が中国を統一する。
- イ. ローマ帝国が栄え、キリスト教が帝国内に広まる。
- ウ. ムハンマドによりイスラム教が開かれる。
- エ. 十字軍の遠征が行われる。

【5】下の文章を読み、次の各問いに答えなさい。

日本列島では、弥生時代に貧富の差が生じ、身分の違いが発生したと考えられている。支配されるようになった人々は、律令国家においては、**a** 口分田を与えられるとともに、さまざまな税を負担させられた。特に成人男子には、労役や防人と呼ばれた兵役も課せられた。重い負担に苦しんだ人々は、政府に抵抗することもあった。このような民衆の抵抗が国家の基盤を動揺させ、国家のしくみを変化させる原因のひとつとなることもあった。

国家のしくみは常に変化し続けるものだが、**b** 11世紀後半から13世紀初頭にかけての時期には、政治や社会のしくみが特に大きく変化した。この時期以降、しだいに農業生産力が向上したこともあり、民衆の力は強まっていった。14世紀には、惣とよばれる村落が形成され、自治が行われるようになった。ときには一揆を起こして、**c** 徳政令を要求することもあった。この時期には、産業が発達し、各地で市が開かれるなど、商業の発達もめざましかった。江戸時代には、士農工商の厳しい身分統制が行われたが、自治的な村落のあり方は維持された。農村は**d** 村役人（村方三役）らを中心にして運営され、税の徴収なども村単位で請け負った。

(1) 下線部 **a** について、口分田が6歳以上の男女に与えられる制度を何というか答えなさい。

(2) 下線部 **b** の時期の説明として、適当でないものを次のア～エから1つ選び、記号で答えなさい。

- ア. この頃、宋より禅宗が伝えられた。武士の気風に合い、幕府に保護されたことから、宋からも多くの僧が渡ってきた。
- イ. 幕府は倭寇を禁じると共に、正式の貿易に勘合という割符の証明書を用いて、日明貿易を始めた。
- ウ. 源氏と平氏の武士を用いた白河天皇は、位をゆずって上皇となり院政を行った。
- エ. 藤原定家らの貴族や僧西行ほか、無常感を示した「方丈記」の作者、鴨長明などの歌が「新古今和歌集」におさめられている。

(3) 下線部 **c** に対する説明として、正しいものを次の **ア～エ** から 1 つ選び、記号で答えなさい。

ア. 債権・債務の破棄を命じる法令

イ. キリシタン信仰を禁じた法令

ウ. 刀・弓・槍・鉄砲などの武器を百姓が持つことを禁じた法令

エ. 武士が百姓・町人になることや農民の転業を禁じた法令

(4) 下線部 **d** とは、組頭と百姓代とあと 1 つは何か、下記の語群から選んで答えなさい。

・徒弟	・名子	・店借	・名主	・足輕
-----	-----	-----	-----	-----

【6】下の文章を読み、次の各問いに答えなさい。

江戸時代には、百姓や町人による新田開発と幕府や藩による干拓などの結果、耕地面積は (①) の頃から、100年ほどで約 (②) 倍に増えた。さらに、農具の改良も進み、深耕に適した **a 備中ぐわ** や脱穀に用いる **b 千齒こき** などとも発明された。

漁業では、網が麻糸でつくられるようになり、**c 大規模な鱒漁** が行われた。

18世紀には商品作物の栽培も各地に広まり、農村は貨幣経済に巻き込まれ、暮らしは大きく変化した。このような中、豊かな農民で地主となった一部の者は、綿などを農民から買い集める問屋となり、百姓に機織りや前金を貸して布を織らせ、出来高に応じて賃金を支払うようになった。これを問屋制家内工業という。やがて、問屋制家内工業は **d 工場制手工業** へと発展した。

幕末になり、1858年アメリカをはじめとして通商条約が結ばれ貿易が始まると、外国から (③) ・ (④) ・武器などが輸入され、日本からは (⑤) ・ (⑥) などが大量に輸出された。さらに幕府が質の悪い金貨を流通させたので、国内の経済は混乱した。


明治に入り、新政府は富国強兵の基礎をなす近代産業を育成するために、殖産興業政策がとられた。政府は、1872年に **e 官営模範工場** を設立し、フランス人技師を招き生糸の質向上をはかった。1880年代に入ると、**f 製糸業や紡績業** などの軽工業を中心に、産業革命が始まった。軽工業に比べ、重工業の発展は少し遅れることとなる。

(1) 文中の (①) と (②) にあてはまる語句の組み合わせとして正しいものを、次の **ア～エ** から 1 つ選び、記号で答えなさい。

ア. ①—源 頼朝 ②—2 **イ.** ①—足利尊氏 ②—3

ウ. ①—豊臣秀吉 ②—2 **エ.** ①—徳川吉宗 ②—3

(2) 下線部 a・b の農具の名前と絵との組み合わせとして正しいものを、次のア～エから選び、記号で答えなさい。



ア. E・A イ. E・B ウ. D・B エ. D・C

(3) 下線部 c が、当時さかんに行われた海岸を地図中のア～エから1つ選び、記号で答えなさい。



(4) 下線部 d の形態で、当時おこなわれていた生産物と産地の組み合わせとして 適当でないもの を、次のア～エから1つ選び、記号で答えなさい。

ア. 織物—桐生 イ. 酒—灘 ウ. 綿花—松前 エ. しょう油—野田

(5) 文中の (3)・(4) と (5)・(6) にあてはまる語句の組み合わせとして正しいものを、次のア～オからそれぞれ1つ選び、記号で答えなさい。

ア. 生糸 ・ 茶 イ. 毛織物 ・ 綿織物
 ウ. 金 ・ 羊毛 エ. 毛織物 ・ 金
 オ. 茶 ・ 綿花

(6) 下線部 e の工場名を何というか、漢字で答えなさい。また、その工場のある位置を(3)の地図中の㊶～㊸から1つ選び、記号で答えなさい。

(7) 下線部 f を支えたのは、多くの農村出身の若い女性労働者たちであった。この女性労働者たちの過酷な生活について書かれた作品を次のア～エから1つ選び、記号で答えなさい。

ア.『蟹工船』 イ.『あゝ野麦峠』 ウ.『舞姫』 エ.『一握の砂』

【7】下の表は、班ごとに取り組んだ学習発表テーマである。次の各問いに答えなさい。

担当班	テーマ
A班	「国会の地位や役割について」
B班	「私たちの暮らしと内閣」
C班	「身近に感じられるか裁判所！」
D班	「日本の現状と日本国憲法」
E班	「国際社会と日本」

(1) 次の文章は、A班がまとめたレポートの一部である。㊶・㊷に当てはまる最も適当な語句を、㊶はア～エから、㊷はオ～クからそれぞれ1つ選び、記号で答えなさい。

民主政治は、一般に、国民の代表者である議員によって構成される議会を中心に行われる。これを㊶といい、日本国憲法は、国民の代表機関である国会を、「国権の最高機関」であり、「唯一の㊷機関」であるとしている。

ア. 二院制 イ. 議院内閣制 ウ. 大統領制 エ. 議会制民主主義
オ. 司法 カ. 行政 キ. 立法 ク. 諮問

(2) B班のテーマに関連して、現在の日本における内閣の仕事はどれか、次のア～オから2つ選び、記号で答えなさい。

ア. 憲法改正の発議 イ. 法律案や予算の作成 ウ. 条約の批准
エ. 条約の締結 オ. 条約の承認

(3) C班は、「裁判所は、すべての法律や政令・省令などが憲法に適合するかどうかを決定する権限を持つ。」というポスターを作成した。この権限を何というか答えなさい。

(4) D班は、生存権について規定した日本国憲法第25条を取り上げた。次の条文中の□にあてはまる語句を漢字2字で答えなさい。

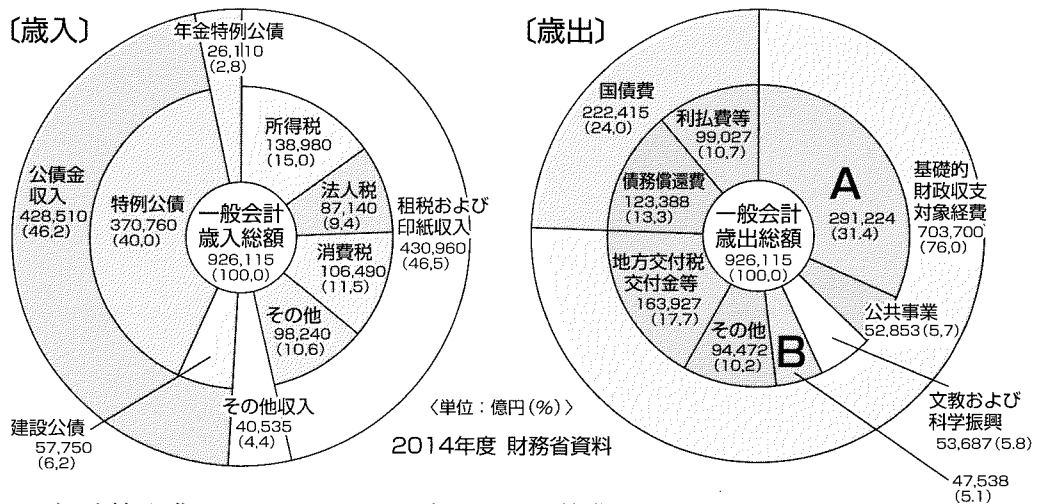
すべて国民は、健康で□的な最低限度の生活を営む権利を有する。

(5) E班は、国際連合の役割を学んだ。次の組織名のうち国際連合の専門機関はどれか、ア～オから2つ選び、記号で答えなさい。

- ア. APEC イ. ASEAN ウ. WHO
エ. NATO オ. UNESCO

【8】わが国の一般会計歳入・歳出の円グラフを見て、次の各問いに答えなさい。

(1) 円グラフ中のAおよびBの項目は何か、次のア～オから1つずつ選び、記号で答えなさい。



- ア. 経済協力費 イ. エネルギー対策費 ウ. 防衛関係費
エ. 社会保障関係費 オ. 中小企業対策費

(2) 円グラフの中の租税および印紙収入のうち、会社などの所得にかかる税で現在政府の方針として減税が検討されているものは何か答えなさい。

(3) 円グラフの中の消費税に関する記述として最も適当なものを、次のア～エから1つ選び、記号で答えなさい。

- ア. 所得の多い少ないに関わらず、同じ税率で負担している。
イ. 現在、国の収入の中で最も割合が多い。
ウ. 負担する者と納める者が同じである。
エ. 1989年に導入されてから、税率が一度下がっている。